



# SSC CGL/CPO/CHSL/STENO

## REASONING

NEW PATTERN पर आधारित

# LOGICAL VENN DIAGRAM



LIVE | 04:00 PM

By Naina Mahendras





Which of the following diagrams indicates the best relation between India, Lucknow and World ?

निम्नलिखित में से कौन सा आरेख भारत, लखनऊ और विश्व के बीच सबसे अच्छे संबंध को दर्शाता है?





Which of the following diagrams indicates the best relation between Country, City and State ?

निम्नलिखित में से कौन सा आरेख देश, शहर और राज्य के बीच सबसे अच्छे संबंध को दर्शाता है?





Which of the following diagrams indicates the best relation between dog, cat and animal ?

निम्नलिखित में से कौन सा आरेख कुत्ते, बिल्ली और जानवर के बीच सबसे अच्छे संबंध को दर्शाता है?







Which of the following diagrams indicates the best relation between eraser, Stationery and pencil ?

निम्नलिखित में से कौन सा आरेख इरेज़र, स्टेशनरी और पेंसिल के बीच सबसे अच्छे संबंध को दर्शाता है?





Which of the following diagrams indicates the best relation between footballer, cricketer and hockey player ?

निम्नलिखित में से कौन सा आरेख फुटबॉलर, क्रिकेटर और हॉकी खिलाड़ी के बीच सबसे अच्छे संबंध को दर्शाता है?





Which of the following diagrams indicates the best relation between football, cricket and hockey?

निम्नलिखित में से कौन सा आरेख फुटबॉल, क्रिकेट और हॉकी के बीच सबसे अच्छे संबंध को दर्शाता है?





Which of the following diagrams indicates the best relationship between **wire**, **copper** and **pencil**?

निम्नलिखित में से कौन सा आरेख तार, तांबे और पेंसिल के बीच सबसे अच्छे संबंध को दर्शाता है?







Which of the following diagrams indicates the best relationship between china, Delhi and India?

निम्नलिखित में से कौन सा आरेख चीन, दिल्ली और भारत के बीच सबसे अच्छे संबंध को दर्शाता है?





Which of the following diagrams indicates the best relationship between pencil, dog and tree?

निम्नलिखित में से कौन सा आरेख पेंसिल, कुत्ते और पेड़ के बीच सबसे अच्छे संबंध को दर्शाता है?





Which of the following diagrams indicates the best relationship between animal, cat and tree?


निम्नलिखित में से कौन सा आरेख पशु, बिल्ली और पेड़ के बीच सबसे अच्छे संबंध को दर्शाता है?





Which of the following diagrams indicates the best relationship between girls, boys and animals?

निम्नलिखित में से कौन सा आरेख लड़कियों, लड़कों और जानवरों के बीच सबसे अच्छे संबंध को दर्शाता है?








Which of the following diagrams indicates the best relationship between women, teachers and animals?



निम्नलिखित में से कौन सा आरेख महिलाओं, शिक्षकों और जानवरों के बीच सबसे अच्छे संबंध को दर्शाता है?





Which of the following diagrams indicates the best relationship between male, cricketer and father?


निम्नलिखित में से कौन सा आरेख पुरुष, क्रिकेटर और पिता के बीच सबसे अच्छे संबंध को दर्शाता है?





Which of the following diagrams indicates the best relationship between Japan, world and Nepal?

निम्नलिखित में से कौन सा आरेख जापान, विश्व और नेपाल के बीच सबसे अच्छे संबंध को दर्शाता है?

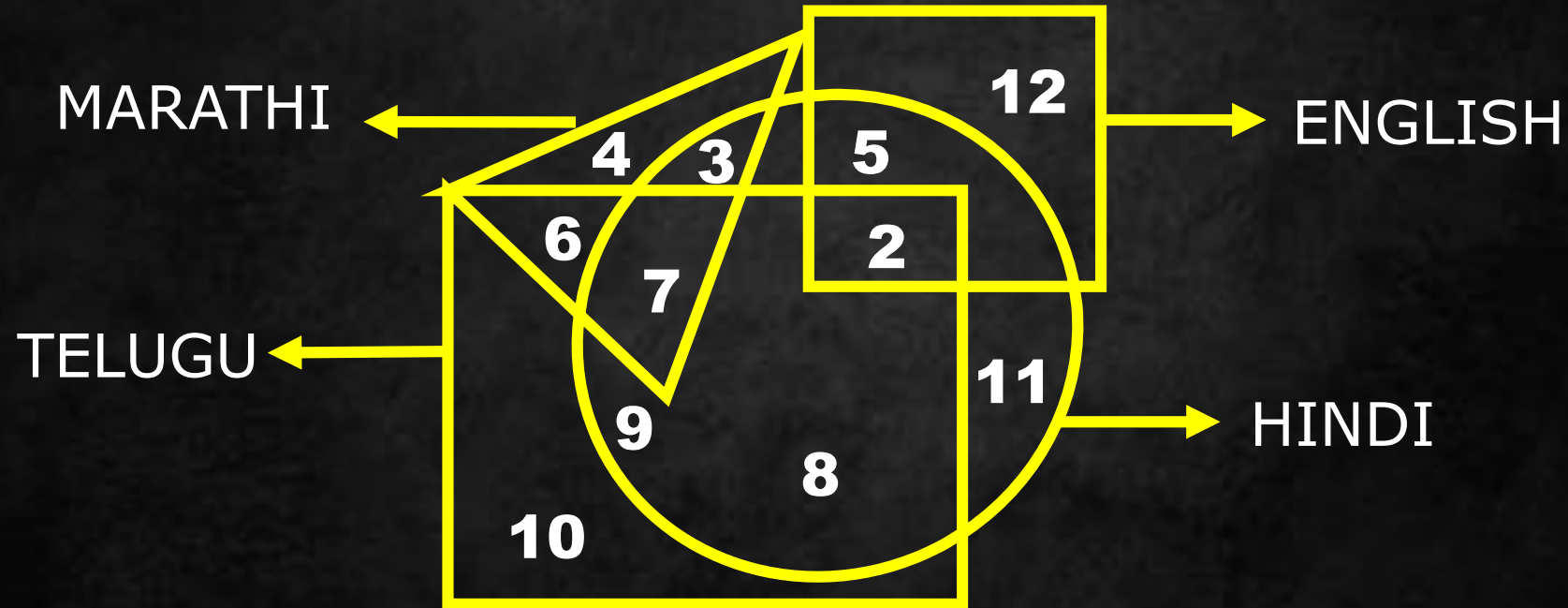




# Different Geometrical Figures

In the following figure small square represents the persons who know English, triangle to those who know Marathi, big square to those who know Telugu and circle to those who know Hindi. In the different regions of the figures from 1 to 12 are given

निम्नलिखित आकृति में छोटा वर्ग अंग्रेजी जानने वालों को, मराठी जानने वालों को त्रिभुज, तेलुगु जानने वालों को बड़ा वर्ग और हिंदी जानने वालों को वृत्त दर्शाता है। विभिन्न क्षेत्रों में 1 से 12 तक के आंकड़े दिए गए हैं







How many persons can speak English and Hindi both the languages only ?

कितने व्यक्ति केवल अंग्रेजी और हिंदी दोनों भाषाएं बोल सकते हैं?

- (A) 5
- (B) 8
- (C) 7
- (D) 18

