



CUET 2022

REASONING



SPEED TEST

DISCUSSION

TEST-1

LIVE



UPCOMING ONLINE BATCHES

June 2022

01 June 2022

08:00 AM to 10:00 AM

BANK ONLINE LIVE CLASS

03:00 PM to 05:00 PM

SSC ONLINE LIVE CLASS

BILINGUAL

08 June 2022

01:00 PM to 03:00 PM

BANK ONLINE LIVE CLASS

07:30 PM to 09:30 PM

SSC ONLINE LIVE CLASS

BILINGUAL

15 June 2022

05:30 PM to 07:30 PM

BANK ONLINE LIVE CLASS

10:30 AM to 12:30 PM

SSC ONLINE LIVE CLASS

BILINGUAL

 www.mahendras.org

 7052477777/7052577777

Arrange the following words as per order in the dictionary.

निम्नलिखित शब्दों को शब्दकोश क्रम के अनुसार व्यवस्थित करें।

1. Request
2. Revenge
3. Refresh
4. Retried

A. 4132 B. 3142 C. 2143 D. 1234



From the given alternative words, select the word which cannot be formed by using the letter of the given word.

दिए गए वैकल्पिक शब्दों से, उस शब्द का चयन करें जो दिये गये शब्द के अक्षरों से नहीं बनाया जा सकता है।

DISTANCE

A. DANCE

B. STAND

C. SANE

D. TEASE

Find the missing number from the given alternatives.

- A. 6
- B. 8
- C. 2
- D. 4

3	4	13
8	8	56
5	3	?



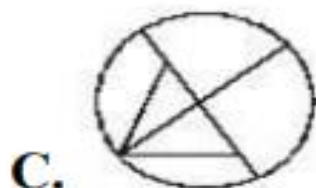
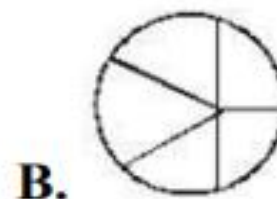
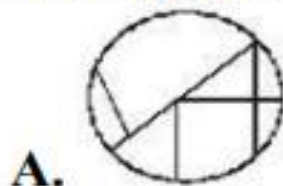
From the given answer figure, select the one in which the question figure is hidden/embedded.

दी गयी उत्तर आकृतियों में से उस एक का चयन करे जो प्रश्न आकृति में सन्निहित है?

Question figure

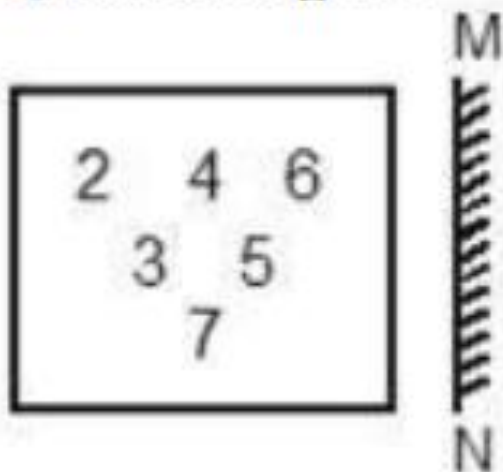


Answer figures

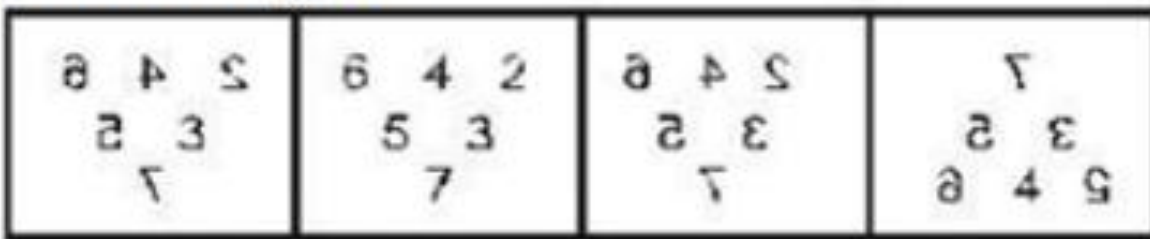


If a mirror is placed on the line MN, then which of the answer figure is the right water image for the given figure?

Question figure



Answer Figure



(A)

(B)

(C)

(D)



Select the related word/ number/letter from the given alternatives.

दिये गए विकल्पों में से संबंधित शब्द/संख्या/अक्षर का चयन करें।

482 : 241 :: 292 : ?

- A. 286
- B. 272
- C. 146
- D. 291

Select the related word/ number/ letter from the given alternatives.

दिये गए विकल्पों में से संबंधित शब्द/संख्या/अक्षर का चयन करें।

BED : GJI :: LOH : ?

- A. PTS
- B. QST
- C. KNH
- D. QTM

Select the related word/ number / letter from the given alternatives.

दिये गए विकल्पों में से संबंधित शब्द/संख्या/अक्षर का चयन करें।

7 : 52 :: 17 : ?

- A. 289
- B. 292
- C. 295
- D. 298

Which one set of letters when sequentially placed at the gaps in the given letter series shall complete it.

अक्षरों का कौन-सा एक सेट जब अक्षर श्रृंखल में दिए गए अंतरालों पर क्रमिक रूप से रखा जाता है, तो वह श्रृंखला को पूरा करेगा?

q_e_n_ue_n__eenq_e_n

- A. ueequequ
- B. ueuqegee
- C. qeuuegee
- D. ueqeque

A number series is given with one term missing. Choose that correct alternative which will complete the series.

एक संख्या श्रृंखला को एक लुप्त पद के साथ दिया गया है। उस सही विकल्प को चुनें जो श्रृंखला को पूरा करेगा।

109, 74, 46, 25, 11, ?

A. 36

B. 0

C. 4

D. 11

A number series is given with one term missing. Choose that correct alternative which will complete the series.

एकसखं ्याश्रंखलाको एकलप्तु पदकेसाथदिया गया है। उससही विकल्पकोचनुंंजोश्रंखलाको परा ू करेगा।

4, 11, 30, 85, 248, ?

A. 333

B. 444

C. 683

D. 735

Statement :

All pens are clocks.

Some clock are wheels.

Conclusions:

- I. No wheels is clocks.**
- II. Some pens are wheels.**

कथन :

सभी पेन घड़िया है।

कुछ घड़िया पहिए है।

निष्कर्ष

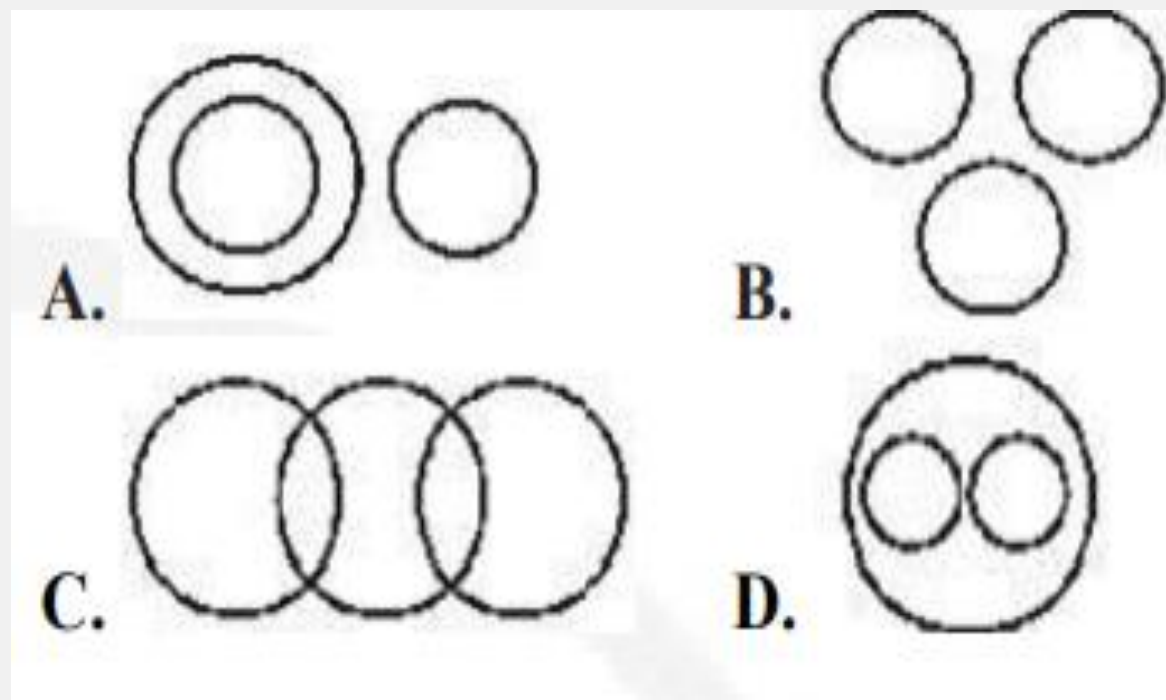
I. कोई पहिया, घड़िया नहीं हैं।

II. कुछ पेन पहिया हैं।

Identify the diagram that best represents the relationship among classes given below.

उस आरेखको पहचानेजो नीचेदिए गए वर्गों के बीच सर्वश्रेष्ठ संबंध को दर्शाता है।

Sun, Bottle, Fan / सूरज, बोतल, पंखा



What will be the mirror image of the given figure?
दी गई आकृति की दर्पण छवि क्या होगी?



Question Figure
JACK52

25CKAJ

(A)

25CKAJ

(B)

25CKAJ

(C)

25CKAJ

(D)

Find odd word/ number from the four given alternatives.

- A. Dinar
- B. Yen
- C. Franc
- D. Pound

दिए गए चार विकल्पों में से विषम शब्द/संख्या ज्ञात कीजिये।

- A. दीनार B. येन C. फ्रैंक D. पाउंड



Find odd word/ number from the four given alternatives.

- A. Shimla
- B. Darjeeling
- C. Ooty
- D. Agra

दिए गए चार विकल्पों में से विषम शब्द/संख्या ज्ञात कीजिये।

- A. शिमला B. दार्जिलिंग C. ऊटी D. आगरा



Find the odd letter/number/ word from the given alternatives.

- A. 552
- B. 736
- C. 833
- D. 561



If $4 \times 6 \times 9 = 649$ and, $9 \times 8 \times 4 = 894$ then $3 \times 7 \times 2 = ?$

- A. 294
- B. 732
- C. 813
- D. 272



If G is 5th to the left of K and 2nd to the right of L who is 11th from the right end then what is G's position from the left?

यदि G, K के बायें से 5 वां और L के दायें से दसरा ० है, जो दायें छोर से 11 वाँ है तो G की बायें ओर से स्थिति क्या है?

- A. 5
- B. 4
- C. 6
- D. Cannot be determined



If P means \times , T means $-$, M means $+$ and B means \div , what will be the value of $12P6M15T16B4$?

- A. 70
- B. 75
- C. 83
- D. 110



20

In a certain code language, PITCH is written as RHVBJ then what will be the code for GREAT in that code language?

एक निश्चित कोड भाषा में, PITCH को RHVBJ लिखा जाता है, तो GREAT के लिए उसी कोड भाषा में क्या कोड होगा?

- A. IQGZV
- B. IJGZV
- C. IQZZV
- D. IQGUI



In a certain code language, SMART is written as UKCPV. What will be the code for WONDER in that code language?

एक निश्चित कोड भाषा में, SMART को UKCPV लिखा जाता है, तो WONDER के लिए उसी कोड भाषा में क्या कोड होगा?

- A. YMPVRT
- B. YMPBGP
- C. YMPBFP
- D. YMBPPG



In a certain code language, 124 is written as 457, 632 is written as 965 and 102 is written as 435 then how can 442 be written in that code language?

एक निश्चित कूट भाषा में, 124 को 457, 632 को 965 और 102 को 435 लिखा जाता है तो उसी कोड भाषा में 442 कैसे लिखा जा सकता है?

- A. 703
- B. 775
- C. 762
- D. 725



Kamlesh is Anil's brother. Sundari is the sister of Madan. Anil is the son of Sundari.

Now how is Kamlesh related to Sundari?

कमलेश, अनिल का भाई है। सन ुंदरी, मदन की बहन है। अनिल, सन ुंदरी का पत्रु है।
कमलेश का सन ुंदरी सेक्या सं बंध है?

- A. Nephew
- B. Son
- C. Brother
- D. Father



Rachita starts walking towards the north. After walking 15 meters, she turns towards the south and walks 20 meters. After this, she turns towards east 10 meters and then walks 5 meters towards the north. Now in which direction is she from her starting point and how far?

चिता उत्तर की ओर चलना आरम्भ करती है। 15 मीटर चलने के बाद, वह दक्षिण दिशा में मड़कर 20 मीटर चलती है। इसके बाद वह पूर्व की ओर मड़कर 10 मीटर चलती है। अतः वहाँ उत्तर की ओर 5 मीटर चलती है। अब वह अपने मूल बिन्दु से किस दिशा में और कितनी दूरी पर है?

- A. 10 meters west
- B. 5 meters east
- C. 5 meters north
- D. 10 meters east

