

# MISSION IBPS 2024



## MATHS

# PRACTICE SET ( PAPER 5 )

पूरा पेपर उड़ा दोगे,  
चुटकियों में...

 LIVE 11:00 AM





## TELEGRAM GROUP- MathbyTarunsir

Question 1- What approximate value will come in place of question mark.

प्रश्न 1- प्रश्न चिह्न के स्थान पर अनुमानित मान क्या आएगा?

$$16.99\% \text{ of } 399.99 + 25.01 \div 4.99 - x = 64.98$$

$$399.99 \text{ का } 16.99\% + 25.01 \div 4.99 - x = 64.98$$

A. 8

B. 11

C. 14

D. 5

E. 18



## TELEGRAM GROUP- MathbyTarunsir

Question 2- What approximate value will come in place of question mark.

प्रश्न 2- प्रश्न चिह्न के स्थान पर अनुमानित मान क्या आएगा?

$$143.99 \div 7.99 \text{ of } 2.99 = \sqrt{?}$$

$$143.99 \div 2.99 \text{ का } 7.99 = \sqrt{(?)}$$

A. 22

B. 36

C. 42

D. 46

E. 54



TELEGRAM GROUP- MathbyTarunsir

Question 3- What approximate value will come in place of question mark.

प्रश्न 3- प्रश्न चिह्न के स्थान पर अनुमानित मान क्या आएगा?

$$\frac{134.99 + 177.12 - ?}{77.01 - 88.01 + 151} = 2$$

A. 24

B. 32

C. 38

D. 18

E. 43



## TELEGRAM GROUP- MathbyTarunsir

Question 4- What approximate value will come in place of question mark.

प्रश्न 4- प्रश्न चिह्न के स्थान पर अनुमानित मान क्या आएगा?

$$680.001 = 794.01 - 834.001 + ?$$

A. 800

B. 640

C. 700

D. 720

E. 845



TELEGRAM GROUP- MathbyTarunsir

Question 5- What approximate value will come in place of question mark.

प्रश्न 5- प्रश्न चिह्न के स्थान पर अनुमानित मान क्या आएगा?

$$\sqrt{223} + 45.01\% \text{ of } 140 - 38.01^2 = ?$$

- A. 1366
- B. 1266
- C. -1366
- D. -1122
- E. 1234



TELEGRAM GROUP- MathbyTarunsir

Question 6- What approximate value will come in place of question mark.

प्रश्न 6- प्रश्न चिह्न के स्थान पर अनुमानित मान क्या आएगा?

$$\sqrt[3]{1340} + \sqrt[3]{340} - \sqrt{731} + 20\% \text{ of } 850 = ?$$

A. 128

B. 145

C. 179

D. 198

E. 170



Question 7- What approximate value come in place of ?

प्रश्न - ? स्थान पर अनुमानित मान आएगा?

$$249.99\% \text{ of } \sqrt{6083.91} + (29.89\% \text{ of } 2249.94) \div 4.95 = ?$$

$$\sqrt{6083.91} \text{ का } 249.99\% + (2249.94 \text{ का } 29.89\%) \div 4.95 = ? \square\square\square$$

A. 300

B. 370

C. 130

D. 330

E. 430





TELEGRAM GROUP- [MathbyTarunsir](#)

What approximate value come in place of ?

? के स्थान पर अनुमानित मान क्या आएगा?

Question 8-  $31.88^{\frac{1}{5}} \times 80.99^{\frac{1}{4}} \times 5.13^2 = ? \times 2.04$

A. 150

B. 100

C. 75

D. 25

E. None of these



# Most Expected 250 Questions (Super Series)



TELEGRAM GROUP- MathbyTarunsir

Question 9- What approximate value come in place of ?

प्रश्न 9- ? स्थान पर अनुमानित मान आएगा?

$$149.99\% \text{ of } \sqrt{6083.91} + (19.89\% \text{ of } 2224.94) \div 4.95 = ?$$

$$\sqrt{6083.91} \text{ का } 149.99\% + (2224.94 \text{ का } 19.89\%) \div 4.95 = ?$$

A. 150

B. 166

C. 180

D. 140

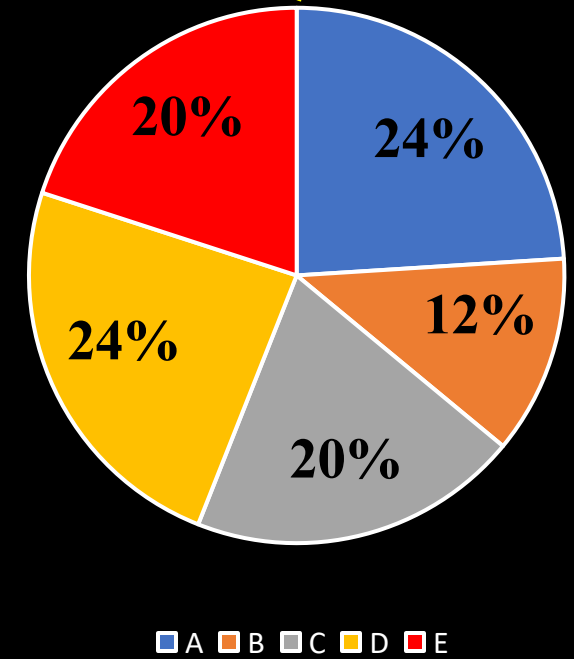
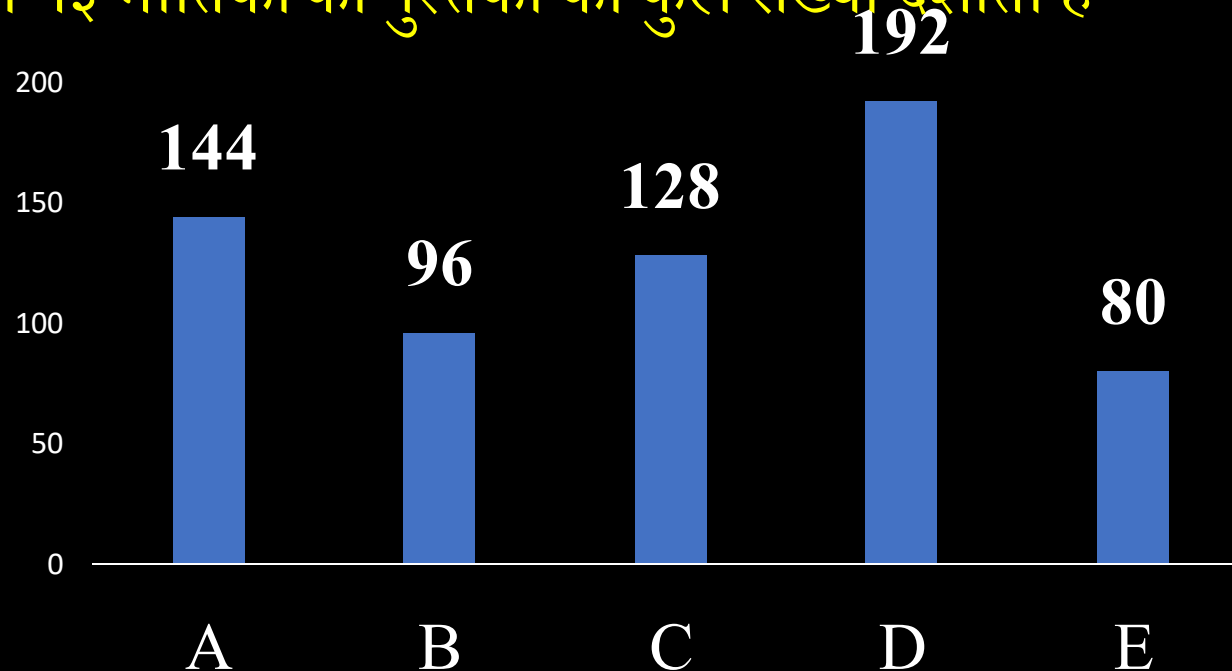
E. 206



## TELEGRAM GROUP- MathbyTarunsir

The pie chart shows the percentage distribution of maths and physics books in distribution and bar graph shows the total number of physics books sold out of total 1600

पाई चार्ट वितरण में गणित और भौतिकी की पुस्तकों के वितरण का प्रतिशत दर्शाता है और बार ग्राफ बेची गई भौतिकी की पुस्तकों की कुल संख्या दर्शाता है

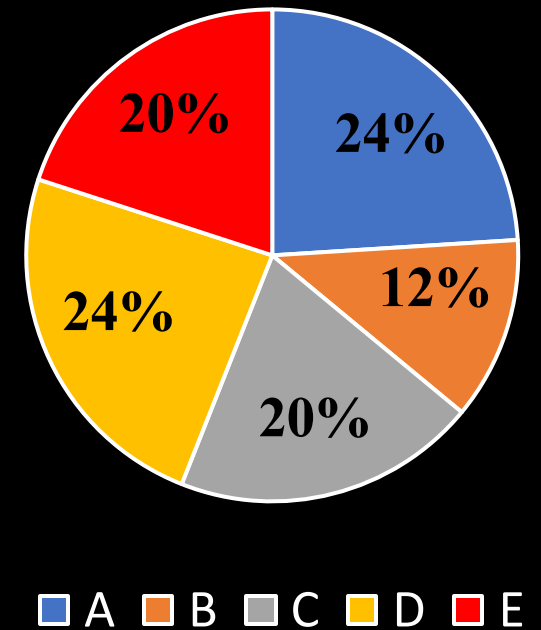
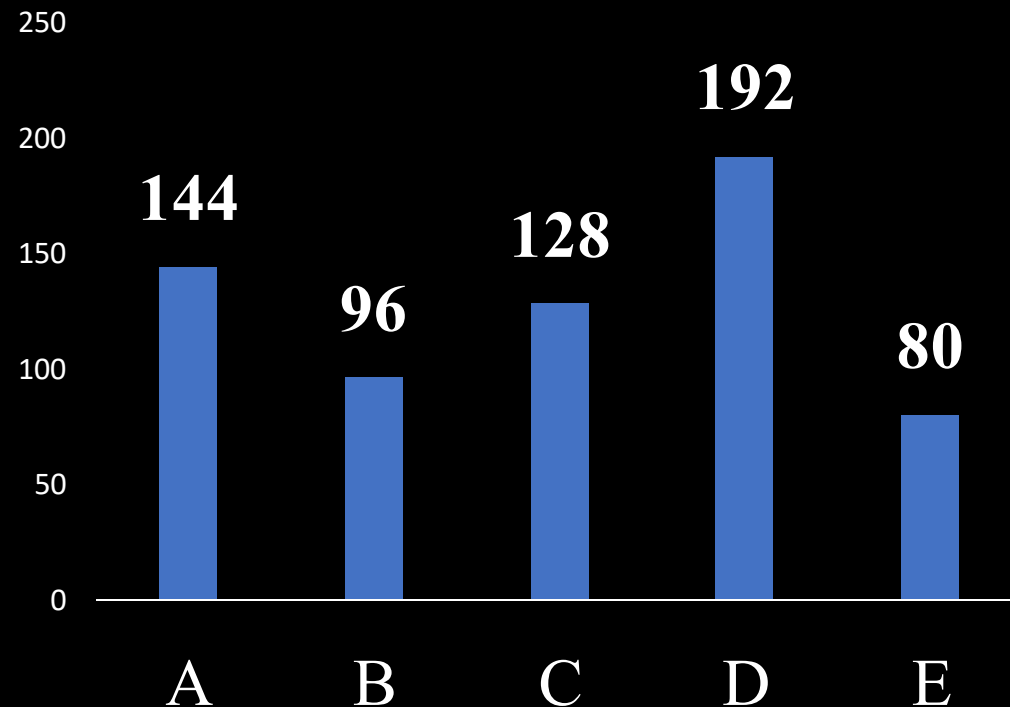




Question 10- If 25% of maths books are old the find number of old maths books in A.

प्रश्न 10- यदि गणित की 25% पुस्तकें पुरानी हैं, तो A में पुरानी गणित पुस्तकों की संख्या ज्ञात कीजिए।

- A. 40
- B. 60
- C. 70
- D. 80
- E. None of these





# Most Expected 250 Questions (Super Series)



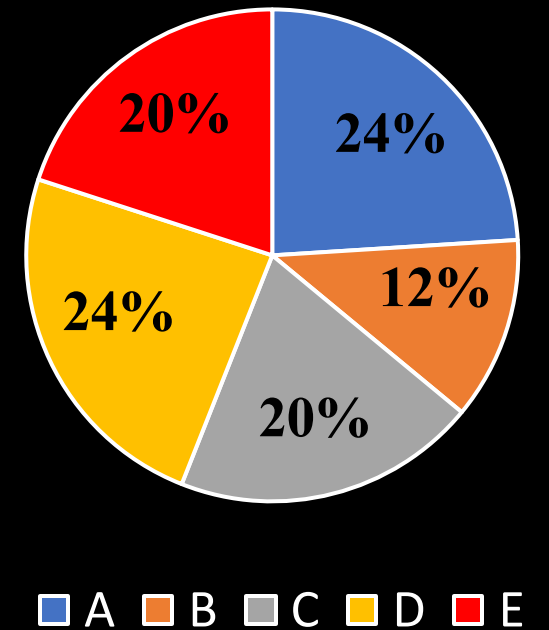
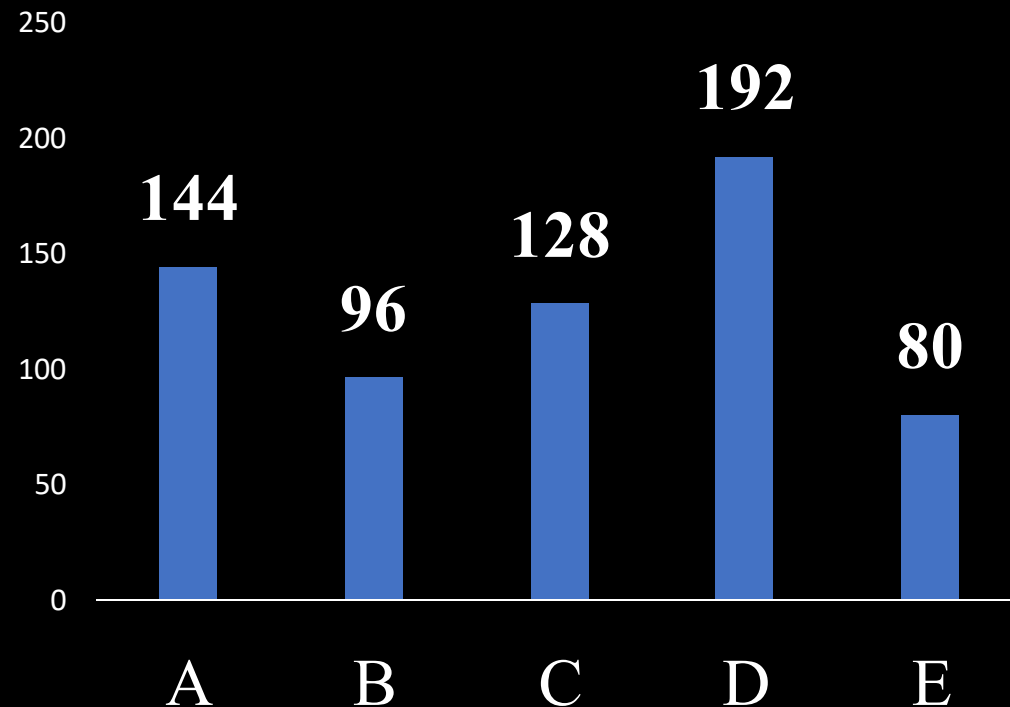
TELEGRAM GROUP- [MathbyTarunsir](#)



Question 11- Find the difference between the total books in B and C to the total maths books in D.

प्रश्न 11- B और C की कुल पुस्तकों और D की गणित की कुल पुस्तकों के बीच का अंतर ज्ञात कीजिए।

- A. 129
- B. 220
- C. 320
- D. 410
- E. None of these





# Most Expected 250 Questions (Super Series)



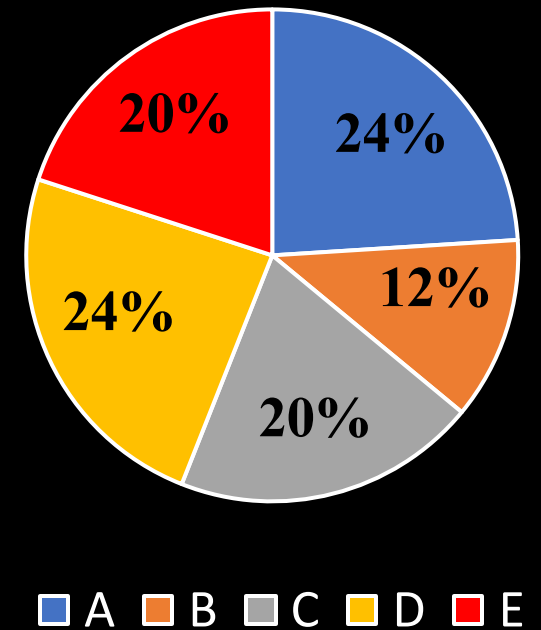
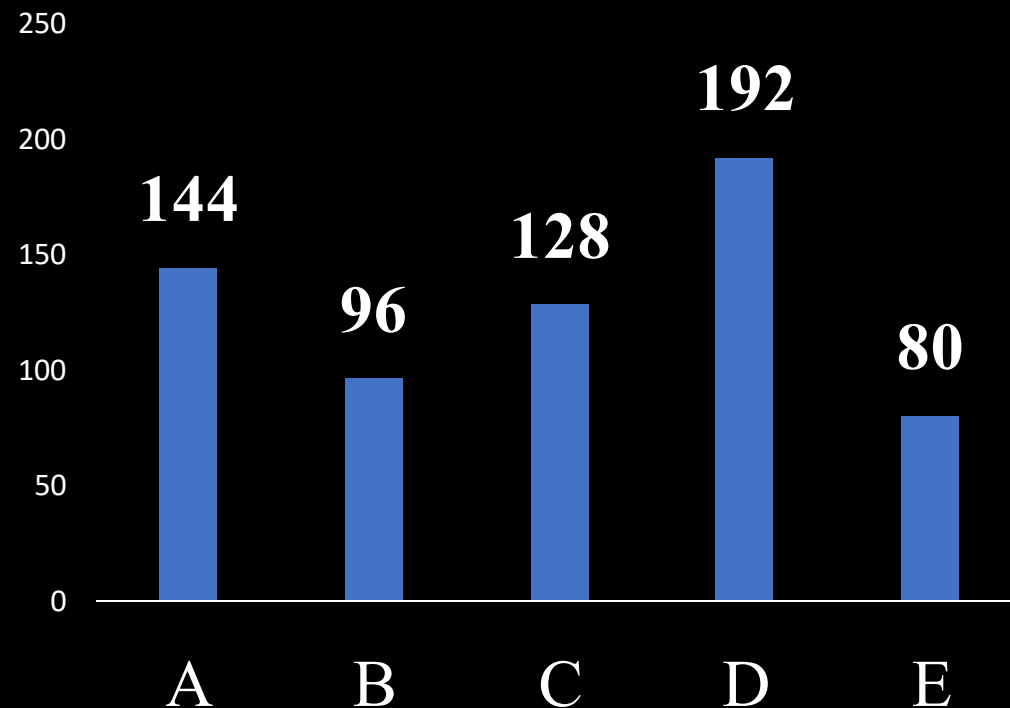
TELEGRAM GROUP- [MathbyTarunsir](#)



Question 12- If E sold maths books at Rs 200 each and physics books Rs 300 each find the total revenue generated.

प्रश्न 12- यदि E गणित की पुस्तकों को 200 रुपये प्रति पुस्तक और भौतिकी की पुस्तकों में से प्रत्येक को 300 रुपये की दर से बेचता है, तो कुल उत्पन्न राजस्व ज्ञात कीजिए।

- A. Rs 44,000
- B. Rs 54,000
- C. Rs 36,000
- D. Rs 72,000
- E. None of these







# Most Expected 250 Questions (Super Series)



TELEGRAM GROUP- [MathbyTarunsir](#)



Question 13- A certain sum gives simple interest one third of principal in 2 years. Find the principal with same rate of compound interest in 3 years if the sum becomes Rs 137200.

प्रश्न 13- एक निश्चित राशि पर 2 वर्षों में मूलधन का एक तिहाई साधारण ब्याज मिलता है। यदि राशि 137200 रुपये हो जाती है, तो 3 वर्षों में चक्रवृद्धि ब्याज की समान दर से मूलधन ज्ञात कीजिए।

A. Rs 86400

B. Rs 77600

C. Rs 44600

D. Rs 90600

E. None of these



# Most Expected 250 Questions (Super Series)

TELEGRAM GROUP- [MathbyTarunsir](#)





Question 14- Two train departed from place P and Q at 1 Pm and 1:30 PM towards each other with speed 160 km/hr and 120 km/hr respectively. Find at what time they will meet of the distance between both place is 500 km.

Question 14- दो ट्रेन स्थान P और Q से दोपहर 1 बजे और दोपहर 1:30 बजे क्रमशः 160 किमी/घंटा और 120 किमी/घंटा की गति से एक-दूसरे की ओर रवाना हुईं ज्ञात कीजिये कि दोनों स्थानों के बीच की दूरी 500 किमी है, वे किस समय मिलेंगी?

- A. 2 PM
- B. 2:30 PM
- C. 3 PM
- D. 4 PM
- E. None of these



# Most Expected 250 Questions (Super Series)

TELEGRAM GROUP- [MathbyTarunsir](#)





Question 15- A person sells an article at 20% profit. If he reduces the selling price Rs 45 then he suffers a loss of 10% . Find the initial selling price.

प्रश्न 15- एक व्यक्ति एक वस्तु को 20% लाभ पर बेचता है। यदि वह विक्रय मूल्य 45 रुपये कम करता है तो उसे 10% की हानि होती है। प्रारंभिक विक्रय मूल्य ज्ञात कीजिए।

A. Rs 150

B. Rs 180

C. Rs 125

D. Rs 200

E. None of these



# Most Expected 250 Questions (Super Series)

TELEGRAM GROUP- [MathbyTarunsir](#)



Join my

# TELEGRAM GROUP



@MathbyTarunsir



Daily PDF of all YT sessions



Discussion / Doubt Solving



Direct Interaction with me



Quiz



Polls







Thank  
you!